










1 Oppgave 1

- a. Beskriv funksjonene til mekanoreseptorene i periodontalligamentet (PDL).
- b. Beskriv ulike mekanismer som regulerer vevstrykket i pulpa.

Skriv ditt svar her...

Format | **B** | *I* | U | x_2 | x^2 | I_x |  |  |  |  |  |  | Ω |  |  | Σ | 

Words: 0

Maks poeng: 10

Knytte håndtegninger til denne oppgaven?










Bruk følgende kode:

XXXXXXXX

2 Oppgave 2

Gjør rede for gingivas mikroskopiske struktur.

Skriv ditt svar her...

Format | **B** | *I* | U | x_2 | x^2 | I_x |  |  |  |  |  |  | Ω |  |  | Σ | ABC | 

Words: 0

Maks poeng: 10

Knytte håndtegninger til denne oppgaven?

Bruk følgende kode:

XXXXXXXX

3 Oppgave 3

Beskriv spyttkjertlenes mikroskopiske struktur.

Skriv ditt svar her...

Format | **B** | *I* | U | x_2 | x^2 | I_x | | | | | | | Ω | | | Σ | ABC |

Words: 0

Maks poeng: 10

Knytte håndtegninger til denne oppgaven?









Bruk følgende kode:

XXXXXXXX

4 Oppgave 4

Beskriv alveolarbenets mikroskopiske struktur.

Skriv ditt svar her...

Format | **B** | *I* | U | x_2 | x^2 | I_x |  |  |  |  |  | Ω |  |  | Σ | ABC | 

Words: 0

Maks poeng: 10

Knytte håndtegninger til denne oppgaven?












Bruk følgende kode:

XXXXXXXX

5 Oppgave 5

Beskriv *os sphenoidale* og angi artikulerende knokler.

Skriv ditt svar her...

Format | **B** | *I* | U | x_2 | x^2 | I_x |  |  |  |  |  |  |  |  |  |  | Σ | ABC | 

Words: 0

Maks poeng: 10

Knytte håndtegninger til denne oppgaven?











Bruk følgende kode:

XXXXXXXX

6 Oppgave 6

Gjør rede for innervasjon, blodforsyning og lymfedrenasjon av tennene og deres støttevev, inkludert gingiva.

Skriv ditt svar her...

Format | **B** | *I* | U | x_2 | x^2 | I_x |  |  |  |  |  |  |  |  |  | Σ | ABC | 

Words: 0

Maks poeng: 10

Knytte håndtegninger til denne oppgaven?

Bruk følgende kode:











XXXXXXXX

7 Oppgave 7

Beskriv følgende muskler; utspring, feste, forløp, funksjon og innervasjon.

- a. M. temporalis
- b. M. mylohyoideus
- c. M. orbicularis oris
- d. M. genioglossus

Skriv ditt svar her...

Format | **B** | *I* | U | x_2 | x^2 | I_x |  |  |  |  |  |  |  |  |  | Σ | ABC | 

Words: 0

Maks poeng: 10

Knytte håndtegninger til denne oppgaven?

Bruk følgende kode:

XXXXXXXX