


Oversikt eksamenssett

Oppgave1

Oppgave1 Oppgave 1 Slimhinnelidelser (20p)

1a) Hva er Fordyce flekker, hvordan ser de ut klinisk, hva ser man histologisk og hvordan håndteres disse i klinikken? (2p)

Skriv ditt svar her...



Maks poeng: 10

Knytte håndtegninger til denne oppgaven?

Bruk følgende kode:


XXXXXXXX

Oppgave2

Oppgave2 Oppgave 1 forts.

1b) Hva er lupus erythematosus? Beskriv etiologi, klinisk utseende av orale manifestasjoner, mikroskopisk utseende samt differensialdiagnoser i munnslimhinnen. (18p)

Skriv ditt svar her...



Maks poeng: 10

Knytte håndtegninger til denne oppgaven?

Bruk følgende kode:


X X X X X X X

Oppgave3

Oppgave3Oppgave 2 Svulster/hyperplasier (20p)

2a) Hva er et odontogent myxom og fra hvilket vev utgår det? Beskriv det histologiske bildet. (6p)

Skriv ditt svar her...



Maks poeng: 10

Knytte håndtegninger til denne oppgaven?


Bruk følgende kode:

X X X X X X X

Oppgave4

Oppgave4Oppgave 2 forts.

2b) Hva er et mukoepidermoid karsinom? Hvordan ser det ut histologisk? (4p)



Skriv ditt svar her...

Maks poeng: 10

Knytte håndtegninger til denne oppgaven?

Bruk følgende kode:

X X X X X X X

Oppgave5

Oppgave5Oppgave 2 forts.

2c) Beskriv forskjellen mellom et fibrom og et papillom klinisk og histologisk (10p)

Skriv ditt svar her...

An empty rectangular drawing area with a light gray background. It features a vertical scrollbar on the right side and a horizontal scrollbar at the bottom. The scrollbars have small triangular arrows at their ends.

Maks poeng: 10

Knytte håndtegninger til denne oppgaven?

Bruk følgende kode:

X X X X X X X

Oppgave6

Oppgave6Oppgave 3 Lett blanding (25p)

3a) Beskriv forskjellene mellom en radikulærcyste og en follikulærcyste klinisk og histologisk. (15p)

Skriv ditt svar her...

An empty rectangular drawing area with a light gray background. It features a vertical scrollbar on the right side and a horizontal scrollbar at the bottom. The scrollbars have small triangular arrows at their ends.

Maks poeng: 10

Knytte håndtegninger til denne oppgaven?

Bruk følgende kode:


X X X X X X X

Oppgave7

Oppgave7Oppgave 3 forts.

3b) Hva er forskjellen på en plateepitelhyperplasi og en plateepitelatrofi? (5p)

Skriv ditt svar her...



Maks poeng: 10

Knytte håndtegninger til denne oppgaven?

Bruk følgende kode:


X X X X X X X

Oppgave8

Oppgave8Oppgave 3 forts.

3c) Hva er et granulasjonsvev? (5p)

Skriv ditt svar her...



Maks poeng: 10

Knytte håndtegninger til denne oppgaven?

Bruk følgende kode:

X X X X X X X


Oppgave9

Oppgave9 Oppgave 4 Tolkning av histopatologisk beskrivelse (10p)

Hvilken diagnose er mest sannsynlig? Gi en forklaring.

Mikroskopisk sees en polyppøs slimhinne kledd av et flerlaget plateepitel. I det subepiteliale bindevevet sees flere ansamlinger av slim. Slimet er omgitt av et granulasjonsvev med mild infiltrasjon av kroniske betennelsesceller. En god del slimholdige makrofager sees også. Videre sees litt mukøst spyttkjertelvev med mild kronisk inflammasjon.

Skriv ditt svar her...



Maks poeng: 10

Knytte håndtegninger til denne oppgaven?

Bruk følgende kode:

X X X X X X X

Oppgave10

Oppgave10Oppgave 5 Histopatologisk bilde

Vedlagt følger 2 histologiske bilder. Disse er fra en munnslimhinne. Til den ene siden sees normal slimhinne og til den andre sees slimhinne med epitelforandringer.

- Hvilken del av slimhinnen er normal? Høyre eller venstre? Begrunn svaret. (10p)
- Hvilke forandringer er det i vevet i den delen som ikke er normal slimhinne? (10p)
- Hvilken diagnose tror du man vil stille i området hvor det er forandringer i epitelet? (2.5p)
- Hva kan følgene bli for pasienten når man har fått påvist slike forandringer i epitelet? (2.5p)

Skriv ditt svar her...

Maks poeng: 10

Knytte håndtegninger til denne oppgaven?

Bruk følgende kode:

XXXXXXXX